




Контрольная работа.

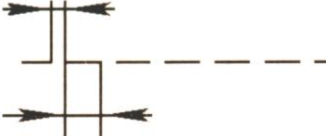
1. Укажите названия линий чертежа их параметры.


$s = 0,5 \dots 1,4 \text{ мм}$

а) 


б) 

в) 

г) 

д) 

2. Выполните надписи «ГРАФИКА» и «Черчение» в первой строке,

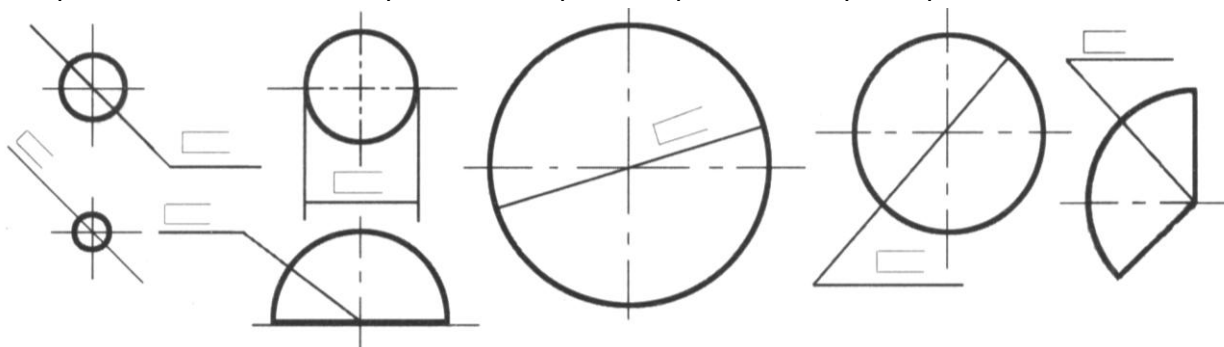


свою фамилию запишите во второй.

3. Укажите наименование каждого знака в соответствующей клетке.




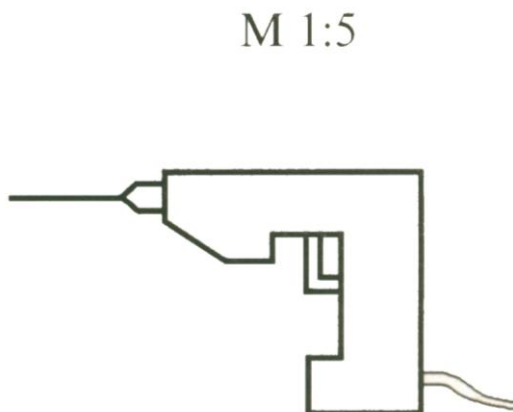
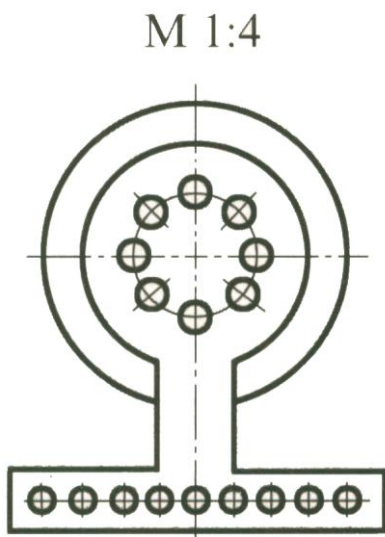
4. Замерьте диаметры окружностей и радиусы дуг, укажите эти размеры в предложенных местах. Проставьте стрелки-ограничители размерных линий.



5. В таблице записаны масштабы. Подпишите их расположение и зачеркните нестандартные масштабы.

10:1	5:1	4:1	3:1	2:1	1:1	1:2	1:2,5	1:4	1:5	1:6	1:10
------	-----	-----	-----	-----	-----	-----	-------	-----	-----	-----	------

6. Проставьте габаритные размеры на чертежах:



7. На изображении формата А4 проставьте размеры.

Заполните таблицу.

Линия (позиция)	Назначение линии	Наименование линии
на изображении формата		
1		
2		
3		

